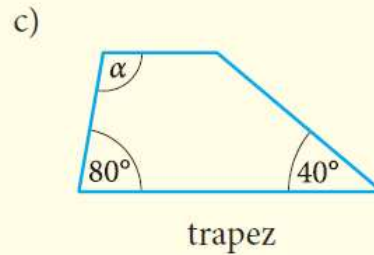
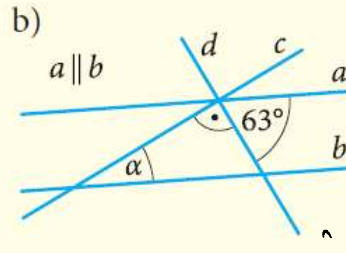
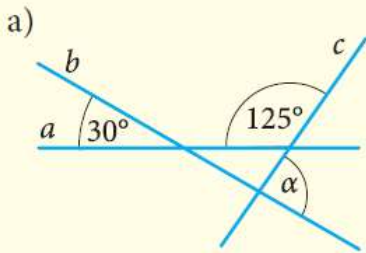


kl. 8Aa - 12.11.2020

Temat: Powtórzenie wiadomości – własności kątów

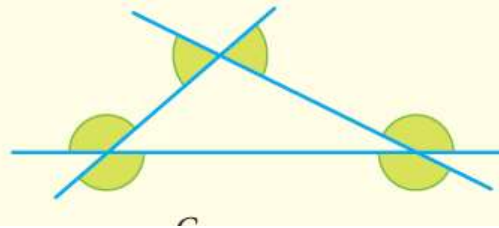
1. Podaj miarę kąta α .



Zad. 2.

Suma miar kątów zaznaczonych na rysunku wynosi

- A. 180° . C. 540° .
B. 360° . D. 720° .



Zad. 3.

Jeden z kątów trójkąta równoramiennego ma miarę 20° . Wyznacz miary pozostałych kątów tego trójkąta (rozpatrz wszystkie możliwe przypadki).